

بوكلت علي الفصل الأول النمو والتركيب السكاني

س١: اختر: تزيد نسبة الذكور في محافظة (الشرقية ٠ الغربية ٠ المنوفية ٠ الأسكندرية ٠)
 س٢: إذا كان تعداد سكان مصر عام ٢٠١٦ حوالى ١٠٠ مليون نسمة بينما كان تعدادهم عام ٢٠٠٦ حوالى ٨٠ مليون نسمة فإن معدل النمو السنوى = % (١٠ ٠ ٢٠ ٠ ٣٠ ٠ ٤٠ ٠)



س٣: من وجه نظرك ماذا تتوقع لو: زاد عدد سكان مصر دون استثمار قدراتهم أو توفير الخدمات لهم ؟

س٤: برهن على مدى صحة العبارة جغرافية (أهمية وجود تعدادات سكانية دقيقة في مصر عام ٢٠٢٦)

س٥: أمامك صورة لأحد الأبنية الحكومية في مصر أذكر الدور الذى يقوم به

س٦: يفضل سكان شرق الدلتا الهجرة إلى

(محافظة الأسكندرية ٠ محافظات القناة ٠)

٠ محافظة شمال سيناء ٠ محافظة البحر الأحمر)

س٦: يفضل سكان جنوب الدلتا الهجرة إلى

(محافظة الأسكندرية ٠ محافظات القناة ٠ محافظة القاهرة ٠ محافظة البحر الأحمر)

س٧: اختر: يعود أقدم أحصاء حيوى في مصر إلى أكثر من (قرن ٠ قرنين ٠ ٣ قرون ٠ ٤ قرون)

س٨: إذا كان تعداد سكان مصر عام ٢٠١٥ حوالى ٩٠ مليون نسمة بينما كان تعدادهم عام ٢٠٠٥ حوالى ٨٠ مليون نسمة فإن معدل النمو السنوى = % (١٠ ٠ ٢٠ ٠ ٣٠ ٠ ٤٠ ٠)

س٩: اختر: تزيد نسبة الأنثى في محافظة (الشرقية ٠ القاهرة ٠ الجيزة ٠ الأسكندرية ٠)

س١٠: اختر: لو معدل المواليد في محافظتك عام ٢٠١٢ حوالى ٣٠,٤ فى الألف بينما معدل الوفيات فى نفس العام حوالى ٦,١ فى الألف

فإن الزيادة الطبيعية فى محافظتك هى فى الألف (٣٦,٥ ٠ ٢٤,٣ ٠ ١٨٠,٤ ٠ جميع ما سبق)

س١١: من وجه نظرك: ما هى أسباب ارتفاع معدل المواليد فى محافظة المنوفية ؟

س١٢: اختر: من المحافظات التى يزيد فيها نسبة الذكور محافظة (أسبوط ٠ جنوب سيناء ٠ الشرقية ٠ الغربية)

س١٣: لو كنت من سكان محافظة سوهاج ماذا تفعل من أجل وقف تيار الهجرة النازحة منها ؟

س١٤: اختر: تنقص العمالة فى محافظة أسبوط والمنوفية خاصة العمالة

(الخدمية ٠ الرعوية ٠ الزراعية ٠ الرعوية والخدمية)

س١٥: ((هناك علاقة بين ارتفاع معدلات المواليد والفقر)) هل تؤيد صحة هذه العبارة أم لا ؟ ولماذا ؟

س١٦: عدم توظيف القدرات العلمية يؤدي إلى

(ظهور العشوائيات ٠ الازدحام ٠ هجرة العقول المفكرة ٠ النمو السكاني)

س١٧: من وجه نظرك: استنتج عوامل الطرد المسببة للهجرة فى محافظتك ؟

س١٨: إذا كان عدد النازحين فى محافظة المنيا ٢٥٠٠٠٠ بينما عدد الوافدين ٣٥٠٠٠٠ فإن صافى الهجرة فى محافظة المنيا حوالى

س١٩: اختر: زيادة نسبة الصغار أقل من ١٥ سنة تعنى زيادة (البطالة ٠ الأمية ٠ الآالة ٠ العشوائية)

س٢٠: ما الآثار المترتبة على: الاتساع النسبى لقاعدة الهرم السكاني فى مصر ؟

س٢١: إذا كان عدد المواليد فى مصر عام ٢٠١٥ حوالى ٢ مليون بينما عدد السكان فى منتصف العام ٨٢ مليون نسمة فإن معدل المواليد فى مصر هو فى الألف (٤٠ ٠ ٤١ ٠ ٤٢ ٠ ٤٤ ٠)

س٢٢: إذا كان عدد الوفيات فى مصر عام ٢٠١٥ حوالى ١٠٠ ألف بينما عدد السكان فى منتصف العام ٩٠ مليون نسمة فإن معدل الوفيات فى مصر هو فى الألف (٩ ٠ ٤,٥ ٠ ١٨ ٠ ١٠ ٠)

س٢٣: اختر: تكون حساب صافى الهجرة فى صالح الدولة إذا كان أكثر من النازحين

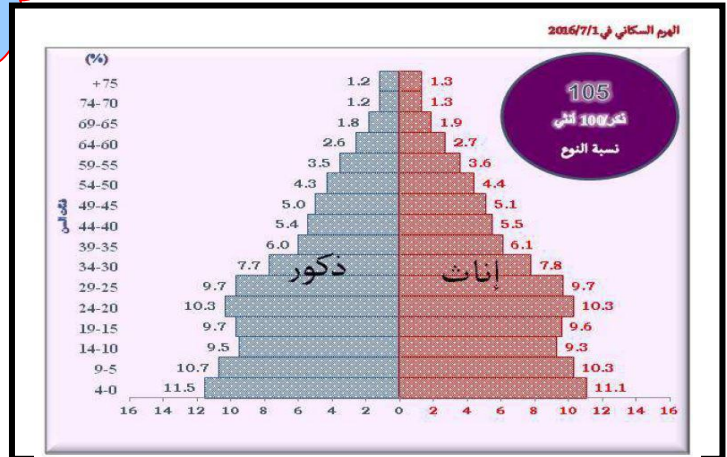
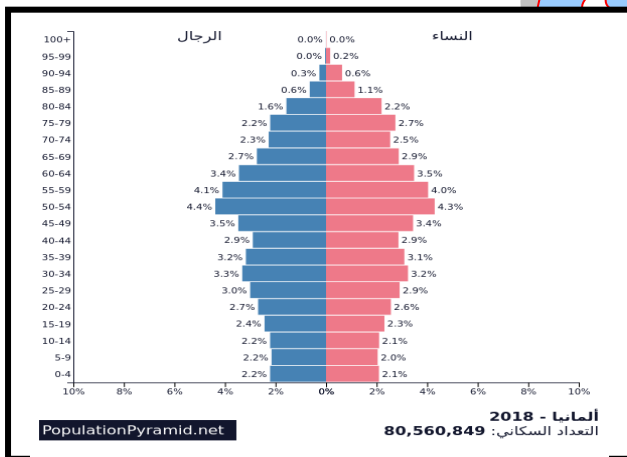
(المبادرون ٠ الوافدون ٠ المهاجرون ٠ كل ما سبق صحيح)

س٢٤: اختر: فى محافظة القاهرة تزداد نسبة لأنها من المحافظات الجاذبة للسكان

(الوافدون والأنثى ٠ القادمون والذكور ٠ الوافدون والنازحون ٠ كل ما سبق صحيح)

س٢٥: ماذا تستنتج من: ((من المرحلة التى بها هرم مصر السكاني الآن))

- س٢٦ : اختر : أكثر الأنشطة انتشاراً يتمثل في النشاط
 (الصناعي ○ الزراعي ○ التجاري ○ الخدمات والأنشطة ○)
- س٢٧ : اختر : تتقارب نسبة العاملين في الخدمات والأنشطة الأخرى مع نسبة العاملين في النشاط
 (الصناعي ○ الزراعي ○ التجاري ○ التشييد والبناء ○)
- س٢٨ : من وجه نظرك متى تصبح الزيادة الطبيعية في مصر = صفر
 (النضج ○ الشباب ○ الشيخوخة ○ كل ماسبق صحيح ○)
- س٢٩ : اختر : هرم مصر السكاني في مرحلة
 (النضج ○ الشباب ○ الشيخوخة ○ كل ماسبق صحيح ○)
- س٣٠ : من وجهة نظرك هل تتفق أم لا تتفق مع هذه العبارة مع ذكر السبب (معدل الوفيات في مصر مرتفع عن المستوى العالمي)
 س٣١ : اختر : أكثر المشكلات التي تقف أمام مشروعات التنمية
 (البطالة ○ الأمية ○ المرض ○ جميع ماسبق صحيح ○)
- س٣٢ : من وجهة نظرك هل تتفق أم لا تتفق مع هذه العبارة مع ذكر السبب (القاهرة والاسكندرية أكثر محافظات مصر جذباً للسكان)
 س٣٣ : ماذا تتوقع أن يحدث : مرور الهرم السكاني لمصر بمرحلة الشباب .
 س٣٤ : اختر : تهتم بدراسة خصائص السكان الاقتصادية والاجتماعية
 (الزيادة الطبيعية ○ الزيادة غير الطبيعية ○ التعدادات السكانية ○ الاحصاءات الحيوية ○)
- س٣٥ : من وجه نظرك هل تؤيد وجود علاقة بين ((الفقر وارتفاع المواليد في مصر)) ولماذا ؟
 س٣٦ : اختر : تهتم بتسجيل معدلات المواليد والوفيات والزواج والطلاق
 (الزيادة الطبيعية ○ الزيادة غير الطبيعية ○ التعدادات السكانية ○ الاحصاءات الحيوية ○)
- س٣٧ : من وجهة نظرك هل تتفق أم لا تتفق مع هذه العبارة مع ذكر السبب (وصلت مصر إلى مرحلة الاستقرار السكاني)
 س٣٨ : من وجه نظرك هل تؤيد وجود علاقة بين ((مستوى المعيشة والهجرة الداخلية)) ولماذا ؟
 س٣٩ : اختر : يؤدي ارتفاع نسبة الأمية في مصر إلى ارتفاع
 (الهجرة الداخلية ○ الهجرة الخارجية ○ المواليد ○ الوفيات ○)
- س٤٠ : من وجهة نظرك هل تتفق أم لا تتفق مع هذه العبارة مع ذكر السبب (ترتفع نسبة الاناث عن الذكور في مصر)
 س٤١ : اختر : كانت معدلات مرتفعة في النصف الأول من القرن ٢٠م
 (المواليد ○ الوفيات ○ الهجرة ○ البطالة ○)
- س٤٢ : اختر : تظهر مشكلة العشوائيات في المدن بسبب
 (ارتفاع المواليد ○ ارتفاع الوفيات ○ الهجرة الداخلية ○ الهجرة الخارجية ○)
- س٤٣ : اختر : يؤدي عدم توظيف القدرات العلمية إلى زيادة نسبة
 (الفقر ○ الأمية ○ البطالة ○ الهجرة الخارجية ○)
- س٤٤ : من وجه نظرك هل تؤيد وجود علاقة بين ((الهجرة الخارجية والعلماء)) ولماذا ؟
 س٤٥ : اختر : أكثر الأنشطة الاقتصادية انتشاراً في مصر النشاط
 (الزراعي ○ الصناعي ○ التجاري ○ التعليمي ○)



- س٤٥ : (أمامك صورة لهرمين سكانيين مختلفين الأول لمصر والثاني لدولة ألمانيا) في ضوء هذه العبارة وضع مايلي
 أ/ مدى التشابه في الهرمين
 ب/ المرحلة التي يتميز بها هرم ألمانيا

س٤٦ : ماذا تتوقع أن يحدث : زيادة فئة صغار السن وكبار السن.

س٤٧ : اختر : تقف حاجزا أمام مشروعات التنمية

(الهجرة الخارجية) (الأمية) (البطالة) (الهجرة الخارجية)

س٤٨ : من وجه نظرك هل تؤيد وجود علاقة بين ؟ الهرم السكاني المصري والتنمية الاقتصادية ((ولماذا ؟

س٤٩ : من وجهة نظرك هل تتفق أم لا تتفق مع هذه العبارة مع ذكر السبب (تلعب الهجرة دورا مهما في تغير حجم سكان الدولة)

س٥٠ : اختر : تؤدي الهجرة الداخلية إلى زيادة مشكلة

(الفقر) (الأمية) (البطالة) (الادمان)

س٥١ : من وجهة نظرك هل تتفق أم لا تتفق مع هذه العبارة مع ذكر السبب (ترتفع نسبة العمالة الزراعية في المحافظات الطاردة للسكان)

س٥٢ : ماذا تتوقع أن يحدث : ارتفاع معدلات المواليد وانخفاض معدلات الوفيات في مصر.

س٥٣ : من وجه نظرك هل تؤيد وجود علاقة بين ((التركيب العمري والتنمية الاقتصادية)) ولماذا ؟

س٥٤ : اختر : يقوم بعمل التعدادات السكانية

(وزارة الصحة والسكان) (الجهاز المركزي للتعبئة) (وزارة التنمية المحلية) (الجهاز المركزي للمحاسبات)

س٥٥ : من وجه نظرك هل تؤيد وجود علاقة بين ((اتساع قاعدة الهرم السكاني والاستقرار السكاني في مصر)) ولماذا ؟

س٥٦ : اختر : أقل نسبة من المتعلمين الحاصلين علي التعليم في محافظة الغربية والقاهرة

(المتوسط) (فوق المتوسط) (الجامعي) (أعلى من الجامعي)

س٥٧ : من وجهة نظرك هل تتفق أم لا تتفق مع هذه العبارة مع ذكر السبب (تدل القدرة الانتاجية للمجتمع علي زيادة نسبة الاعالة)

س٥٨ : من وجه نظرك هل تؤيد وجود علاقة بين ((الاعالة والتركيب العمري)) ولماذا ؟

س٥٩ : ماذا تتوقع أن يحدث : عدم توظيف القدرات العلمية.

س٦٠ : اختر : تزيد نسبة الذكور في محافظة

(الشرقية) (المنوفية) (البحر الأحمر) (الغربية)

س٦٢ : من وجه نظرك هل تؤيد وجود علاقة بين ((المنشآت الترفيهية والهجرة)) ولماذا ؟

س٦٣ : ماذا تتوقع أن يحدث : لوزدات الوفيات وقلت المواليد ؟

س٦٤ : من وجهة نظرك هل تتفق أم لا تتفق مع هذه العبارة مع ذكر السبب (معظم المهاجرين للخارج من فئة الشباب)

س٦٥ : ما المقصود بالهرم السكاني ؟

س٦٦ : ((يعتبر تركيب السكان تبعاً لفئة العمرية من أهم المؤشرات السكانية)) هل تؤيد صحة هذه العبارة أم لا ؟ ولماذا ؟

س٦٧ : اختر : تؤكد الدراسات أن ٧٠ ٪ من المهاجرين من فئة (الأطفال) (الشباب) (الشيوخ) (الكهولة)

س٦٨ : يفضل سكان غرب الدلتا الهجرة إلى

(محافظة الأسكندرية) (محافظة القناة) (محافظة شمال سيناء) (محافظة البحر الأحمر)

س٦٩ : من وجه نظرك هل تؤيد وجود علاقة بين ((الهجرة والتركيب النوعي)) ولماذا ؟

س٧٠ : تتشابه محافظة سوهاج وأسيوط في ارتفاع

(مستوى الخدمات) (الأجور) (مستوى المعيشة) (نسبة الأناث عن الذكور)

بوكلت علي الفصل الثاني توزيع السكان والكثافة السكانية في مصر

س١ : اختر : من أكثر العوامل تأثيراً في التركز السكاني في مصر (المناخ) (التضاريس) (التربة) (المياه)

س٢ : من وجهة نظرك هل تتفق أم لا تتفق مع هذه العبارة مع ذكر السبب (ساهمت طرق النقل والمواصلات في ظهور بعض المدن)

س٣ : اختر : يؤثر عامل النقل والمواصلات في تركيز السكان في محافظة

(شمال سيناء) (بورسعيد) (مطروح) (كفر الشيخ)

س٤ : من وجه نظرك هل تؤيد وجود علاقة بين ((موارد المياه وتوزيع السكان في مصر)) ولماذا ؟

س٥ : اختر : المعبر الحقيقي عن العلاقة بين عدد السكان والمساحة المعمورة هي

(النمو السكاني) (الكثافة العامة) (الكثافة الحقيقية) (التعداد السكاني)

س٦ : اختر : من محافظات الوجهة القبلي ذات الكثافة السكانية المتوسطة

(المنيا) (أسيوط) (سوهاج) (أسوان)

س٧ : من وجه نظرك هل تؤيد وجود علاقة بين ((التربة وتركز السكان في محافظة الفيوم)) ولماذا ؟

س٨ : اختر : من محافظات الوجهة البحري ذات الكثافة السكانية المتوسطة

(الشرقية) (القليوبية) (الدقهلية) (كفر الشيخ)



خريطة محافظات مصر

س٩ : تفحص الخريطة التي أمامك ثم أجب على الأسئلة الآتية :-

- ١- محافظة بها كثافة سكانية مرتفعة جداً
- ٢- محافظة بها كثافة سكانية مرتفعة
- ٣- محافظة بها كثافة سكانية متوسطة في الوجه القبلي
- ٤- محافظة ساحلية بها كثافة سكانية متوسطة
- ٥- محافظة في الوجه البحري بها كثافة سكانية متوسطة
- ٦- محافظة ساحلية بها كثافة سكانية منخفضة
- ٧- محافظة بها كثافة سكانية منخفضة جداً
- ٨- محافظة حدودية تقع بين خليجين ترتفع فيها نسبة الذكور
- ٩- محافظة تربتها فقيرة ذات كثافة سكانية منخفضة
- ١٠- محافظة ترتفع فيها نسبة الذكور تقع غرب الدلتا
- ١١- محافظة ترتفع فيها نسبة الذكور تقع جنوب الدلتا
- ١٢- محافظة قريبة من أسوان يتجه منها تيار الهجرة
- ١٣- محافظة قريبة من الإسكندرية يتجه منها تيار الهجرة
- ١٤- محافظة ترتفع بها نسبة الإناث ذات كثافة سكانية متوسطة
- ١٥- محافظة جنوب الدلتا بها كثافة سكانية مرتفعة

س١٠ : اختر : من محافظات الساحل الشمالي ذات الكثافة السكانية المتوسطة

(بورسعيد) (الأسكندرية) (دمياط) (كفر الشيخ)

س١١ : من وجه نظرك هل تؤيد وجود علاقة بين ((حفر قناة السويس الجديدة وتوزيع السكان)) ولماذا ؟

س١٢ : اختر : من محافظات مصر ذات الكثافة السكانية المرتفعة

(بورسعيد) (الأسكندرية) (الجيزة) (القاهرة)

س١٣ : اختر : أكثر العوامل تأثيراً في تركيز السكان بالوادي والدلتا هو

(النقل والمواصلات) (المناخ) (التضاريس) (الظروف السياسية والعسكرية)

س١٤ : اختر : أكثر العوامل تأثيراً في تركيز السكان بمدينة القناة هو

(النقل والمواصلات) (المناخ) (التضاريس) (الظروف السياسية والعسكرية)

س١٥ : من وجهة نظرك هل تتفق أم لا تتفق مع هذه العبارة مع ذكر السبب (مؤشر الكثافة العامة لا يؤثر في الخطط المستقبلية للدولة)

س١٦ : من وجه نظرك هل تؤيد وجود علاقة بين ((الأنشطة السكانية وتوزيع السكان في محافظتك)) ولماذا ؟

س١٧ : اختر : من محافظات الساحل الشمالي ذات الكثافة السكانية المنخفضة

(شمال سيناء) (الأسكندرية) (مطروح) (كفر الشيخ)

س١٨ : اختر : يؤثر عامل في ندرة السكان في محافظة جنوب سيناء

(النقل والمواصلات) (المناخ) (التضاريس) (الظروف السياسية والعسكرية)

س١٩ : من وجهة نظرك هل تتفق أم لا تتفق مع هذه العبارة مع ذكر السبب (توزيع السكان في مصر يتميز بالتركز الشديد)

س٢٠ : من وجه نظرك هل تؤيد وجود علاقة بين ((حرب ١٩٦٧م وتوزيع السكان في مصر)) ولماذا ؟

س٢١ : اختر : يقل السكان في الأطراف الغربية لمحافظة بسبب فقر التربة

(الدقهلية) (بورسعيد) (البحيرة) (كفر الشيخ)

س٢٢ : اختر : من أكثر مناطق التركيز السكاني بمصر تتمثل في محافظات

(الوجه القبلي) (الوجه البحري) (الحدود) (القناة)

س٢٣ : من وجه نظرك هل تؤيد وجود علاقة بين ((هزيمة إسرائيل عام ١٩٧٣م وتوزيع السكان)) ولماذا ؟

س٢٤ : اختر : من أقل مناطق التركيز السكاني بمصر تتمثل في محافظات

(الوجه القبلي) (الوجه البحري) (الحدود) (القناة)

س٢٥ : اختر : يتركز السكان في محافظات المنوفية والدقهلية بسبب

(المناخ المعتدل) (التربة الخصبة) (الأستقرار الامني) (تركز الصناعة)

س٢٦ : من وجه نظرك هل تؤيد وجود علاقة بين ((الرواسب الفيضية وتوزيع السكان في مصر)) ولماذا ؟
 س٢٧ : من وجهة نظرك هل تتفق أم لا تتفق مع هذه العبارة مع ذكر السبب (توجد علاقة عكسية بين كثافة السكان وبين مساحة اى محافظة في مصر)

س٢٨ : **أختار** : يتميز توزيع السكان في مصر يتميز ب.....

١) التركيز الشديد والكثافة المرتفعة

٢) الانتشار الواسع والكثافة المرتفعة

٣) التركيز الشديد والكثافة المنخفضة

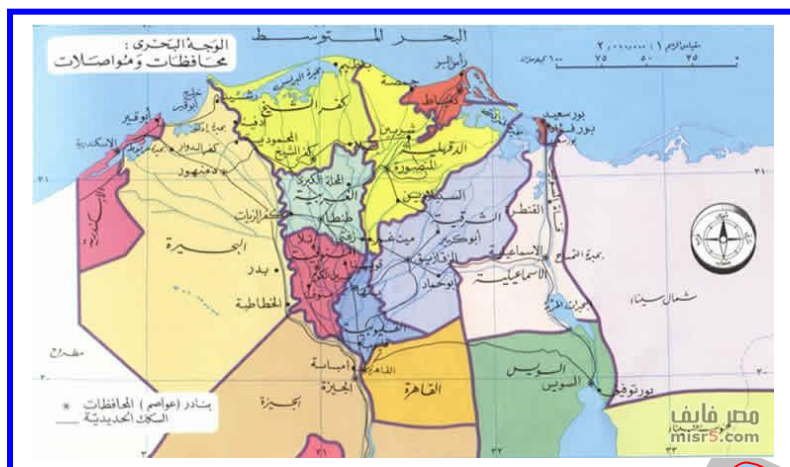
٤) اللامركزية والكثافة المنخفضة

س٢٩: **أختار:** يقل السكان في الأطراف الشرقية لمحافظة بسبب فقر التربة
(**الشرقية** **٥** **بورسعيد** **٥** **البحيرة** **٥** **كفر الشيخ**)

س٣٠: **أختار:** يقل السكان في الأطراف الشمالية لمحافظة بسبب فقر التربة

س٣١ : من وجهة نظرك هل تتفق أم لا تتفق مع هذه العبارة **مع ذكر السبب** (رغم تنوع مظاهر السطح إلا أنها غير مؤثرة فى توزيع السكان)

س٣٢ : امامك خريطة لحافظات الوجه البحرى
أحب عما بأنى



- ١- محافظة ترتفع بها نسبة الذكور
- ٢- محافظة ذات كثافة سكانية منخفضة وطاردة للسكان
- ٣- محافظة ذات كثافة سكانية متوسطة وطاردة للسكان
- ٤- محافظة ساحلية ترتفع بها نسبة الاناث
- ٥- محافظة طاردة للسكان ذات تربة فقيرة
- ٦- محافظة شرق الدلتا طاردة للسكان

بوكت على الفصل الثالث المشكلات السكانية والإجتماعية وسيناريوهات المستقبل

س ١: اختر: ارتفاع نسبة الأمية ومعدلات البطالة والفقر يمثل البعد من المشكلة السكانية

س٢: اختر: ارتفاع نسبة صفار السن يمثل البعد من المشكلة السكانية

س٣ : من وجهة نظرك هل تتفق أم لا تتفق مع هذه العبارة مع ذكر السبب (المشكلة السكانية في مصر مشكلة نقص الموارد)

س٤ : من وجه نظرك هل تؤيد وجود علاقة بين (عدد السكان والموارد في مصر) ولماذا ؟

س ٥ : من وجه نظرك ماذا يحدث إذا ... ؟ طبقت الدولة قوانين معاربة تجارة المخدرات بشدة وحزم ؟ ؟

س ٦ : اختر : سوى توزيع السكان يمثل البعد من المشكلة السكانية

س٧ : اختر : عدم التوازن بين عدد السكان والموارد يمثل البعد من المشكلة السكانية

س ٨ : من وجهة نظرك هل تتفق أم لا تتفق مع هذه العبارة مع ذكر السبب (اهتمام الدولة بالتعليم الجامعي يسهم في حل المشكلة السكانية)

س٩ : من وجه نظرك هل تؤيد وجود علاقة بين ((هجرة السكان من الريف والمشكلة السكانية)) ولماذا ؟
 س١٠ : من وجه نظرك ماذا يحدث إذا ... ؟ أهتمت الدولة باتباع برامج فعالة للتنمية البشرية ؟

س ١١: اختر: سوء توزيع السكان يساعد على انتشار.....

(٠) الفقر (٠) الأمية (٠) البطالة (٠) انتشار العشوائيات

س١٢: اختر: ارتفاع نسبة صفار السن يؤدي إلى زيادة

(٠ الفقير ٠ الأمية ٠ البطالة ٠ الأعاية)

س١٣: من وجهة نظرك هل تتفق أم لا تتفق مع هذه العبارة مع ذكر السبب (توزيع السكان في مصر لا يتناسب مع مساحات قطاعاتها)
 س١٤: اختر: من المشكلات الاقتصادية المترتبة على المشكلة السكانية

(نقص الغذاء) (ازدحام المدن) (البطالة) (الأعاة)
 س١٥: اختر: الفقر المائي يؤثر على كثير من الأنشطة الاقتصادية أهمها

(الصناعة) (استصلاح الأراضي) (الثروة الحيوانية) (الثروة السمكية)
 س١٥: من وجهة نظرك هل تتفق أم لا تتفق مع هذه العبارة مع ذكر السبب (زيادة نسبة الإعالة في مصر إحدى الأبعاد الرئيسية

للمشكلة السكانية في مصر)

س١٦: اختر: انتشار تمثل مشكلة لها انعكاسات اقتصادية واجتماعية وأمنية
 (انتشار العشوائيات) (الأمية) (البطالة) (الفقر)

س١٧: من وجه نظرك هل تؤيد وجود علاقة بين ((البطالة والنمو السكاني المرتفع)) ولماذا ؟

س١٨: اختر: المشكلة السكانية بمصر لها علاقة بمشكلة تلوث البيئة التي نتجت عن

(ارتفاع معدل البطالة) (سوء التوزيع السكاني) (عدم التوازن بين الموارد والسكان) (ارتفاع نسبة صفار السن)
 س١٩: أملك خريطة لمحافظة مصر في ضوء هذه العبارة وضع :-

١- أكثر المحافظات يمكن أن تتوسع في مجالات التنمية الإقليمية

٢- محافظة حدودية جاذبة للسكان وساحلية

٣- محافظة يظهر فيها أثر التضاريس في توزيع السكان

٤- محافظة يتركز فيها الحكم والأدارة

٥- محافظة ذات كثافة سكانية منخفضة وترتفع فيها نسبة الاناث ذات تربة فقيرة

٦- محافظة شرق الدلتا طاردة للسكان ذات تربة فقيرة

٧- محافظة تقع في الوجه القبلي ذات كثافة متوسطة

٨- محافظة تحتل المركز الثالث في مناطق التركيز السكاني

٩- محافظة تكثر فيها الواحات يمكن أن تحقق التنمية الزراعية

١٠- محافظة من محافظات القناة يوجد بها التعدين



س٢٠: من وجه نظرك ماذا يحدث إذا ... ؟ أهتمت الدولة بالبحث عن مصادر جديدة للمياه؟

س٢١: اختر: عدم ملاحقة النمو الاقتصادي للزيادة السكانية أدى إلى

(انتشار العشوائيات) (الأمية) (البطالة) (تلوث البيئة)
 س٢٢: من وجه نظرك هل تؤيد وجود علاقة بين ((المشكلة السكانية في مصر وعلاقاتها الدولية)) ولماذا ؟

س٢٣: اختر: من المحافظات التي لو أقيمت بها تساعد في حل مشكلة الازدحام

(البحر الأحمر) (بورسعيد) (المنوفية) (القليوبية)
 س٢٤: اختر: الزحف العمراني خطر يواجه الزراعة في مصر بسبب

(نقص الغذاء) (سوء توزيع السكان) (البطالة) (عدم التوازن بين الموارد والسكان)
 س٢٥: من وجهة نظرك هل تتفق أم لا تتفق مع هذه العبارة مع ذكر السبب (توجد علاقة عكسية بين الزيادة السكانية والطلب على

السلع الاستهلاكية)

س٢٦: من وجه نظرك ماذا يحدث إذا ... ؟ توقفت الهجرة من الريف إلى مدينة القاهرة ؟

س٢٧: اختر: استخدام الاطفال كأيدى عاملة يزيد من انتشار

(الفقر) (الأمية) (البطالة) (الأعاة)
 س٢٨: اختر: عجز الموارد المالية المحلية عن تمويل المشروعات الاستثمارية أدى إلى

(الفقر) (الأمية) (البطالة) (انتشار العشوائيات)
 س٢٩: من وجه نظرك هل تؤيد وجود علاقة بين ((نقص الغذاء والمشكلة السكانية)) ولماذا ؟

س٣٠: اختر: توفير الحكومة لفرص العمل للشباب يساهم في حل مشكلة

- س٣١: اختر: من المحافظات التي ترتفع فيها الاجور وتتوافر فرص العمل بها محافظة
 (الفقر) (المنوفية) (البحر الاحمر) (الدقهلية) (كفر الشيخ)
- س٣٢: اختر: عجز الموارد المالية المحلية عن تمويل المشروعات الاستثمارية أدى إلى ظهور
 (الفقر) (الأمية) (البطالة) (انتشار العشوائيات)
- س٣٣: من وجهة نظرك هل تتفق أم لا تتفق مع هذه العبارة مع ذكر السبب (تفعيل القوانين يسهم في حل المشكلات الاجتماعية المتعلقة بالمشكلة السكانية)
 س٣٤: من وجه نظرك هل تؤيد وجود علاقة بين ((تيارات الهجرة الداخلية وظهور العشوائيات)) ولماذا ؟
 س٣٥: من وجه نظرك ماذا يحدث إذا ... ؟ اهتمت الدولة بتنمية الساحل الشمالى ؟
 س٣٦: اختر: انتشار حرفة الزراعة فى الريف أدت إلى
 (انتشار العشوائيات) (ارتفاع معدلات البطالة) (الاكتفاء الذاتى من المحاصيل الغذائية) (ارتفاع نسبة الامية)

النموذج الأول على الوحدة الثالثة

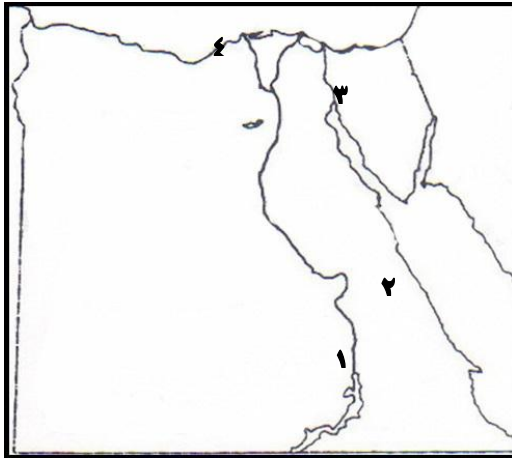
- س١: اختر: تؤثر السياحة على توزيع السكان كما هو الحال فى محافظة
 (رأس غارب) (العريش) (٦ أكتوبر) (الشرقية)
- س٢: اختر: المعبر الحقيقى عن العلاقة بين عدد السكان والمساحة المعمورة
 (النمو السكانى) (الكثافة الحقيقية) (الكثافة العامة) (التعداد السكانى)
- س٣: اختر: أكثر العوامل الجاذبة للسكان فى القاهرة توافر
 (فرص العمل) (مستوى المعيشة) (مراكز الحكم والادارة) (المنشآت الترفيهية)
- س٤: اختر: تشترك محافظة الاسماعيلية والسويس فى إنهما ذات كثافة سكانية
 (مرتفعة) (متوسطة) (منخفضة) (منخفضة جداً)
- س٥: اختر: يبلغ عدد المناطق التى يتركز فيها السكان فى مصر حوالى مناطق
 (ثلاثة) (أربعة) (خمس) (ستة)
- س٦: اختر: سوء توزيع الخدمات التعليمية أدى إلى ظهور
 (الفقر) (الأمية) (البطالة) (جميع ماسبق صحيح)
- س٧: اختر: ترتبط زيادة الإعالة فى مصر بـ
 (انتشار العشوائيات) (ارتفاع معدلات البطالة) (الاكتفاء الذاتى من المحاصيل الغذائية) (ارتفاع نسبة الامية)
- س٨: اختر: تتشابه محافظة الاسكندرية والقاهرة بإنهما ذات
 (كثافة سكانية مرتفعة) (وجود مراكز الحكم والإدارة) (نسبة ذكور أعلى من الإناث) (جميع ماسبق صحيح)
- س٩: اختر: انتشار حرفة الزراعة فى الريف أدت إلى
 (انتشار العشوائيات) (ارتفاع معدلات البطالة) (الاكتفاء الذاتى من المحاصيل الغذائية) (ارتفاع نسبة الامية)
- س١٠: اختر: قصور النمو الاقتصادى عن ملاحقة النمو السكانى أدى إلى
 (الفقر) (الأمية) (البطالة) (جميع ماسبق صحيح)
- س١١: أمام إحدى الصور: أذكر أسم الظاهرة التى تعبر عنها ؟ وماهى أسبابها



- س١٢ : من وجهة نظرك : ما افضل مناطق لإقامة مجتمعات عمرانية جديدة ؟ وضع أسباب اختيارك ؟
 س١٣ : من وجه نظرك هل تؤيد وجود علاقة بين ((تيارات الهجرة الداخلية وظهور العشوائيات)) ولماذا ؟
 س١٤ : من وجه نظرك : كيف يمكن مواجه مشكلة البطالة ؟
 س١٥ : وضع الآثار المترتبة على : الهجرة الداخلية لمحافظة بورسعيد ؟
 س١٦ : من وجهة نظرك هل تتفق أم لا تتفق مع هذه العبارة مع ذكر السبب (الاتساع النسبي لقاعدة الهرم السكاني بمصر يعوق برامج التنمية بها)
 س١٧ : من وجه نظرك هل تؤيد وجود علاقة بين ((حفر قناة السويس الجديدة وتوزيع السكان)) ولماذا ؟

النموذج الثاني على الوحدة الثالثة

- س١ : أكمل الجمل التالية بكلمة مناسبة من الكلمات التالية (انقر بالموس على الاجابة الصحيحة)
 (محافظة شمال سيناء - التربة - الكثافة العامة - الكثافة الصافية - البطالة - الامية - الأحياء العشوائية - محافظة القاهرة - محافظة البحر الأحمر - محافظة الشرقية - محافظة الإسماعيلية - محافظة كفر الشيخ - محافظة البحيرة - المناخ)
 ١ : من المحافظات التي ترتفع فيها الاجور وتتوافر مراكز الحكم بها محافظة
 ٢ : يقل السكان في الأطراف الشمالية لمحافظة بسبب فقر التربة
 ٣ : من محافظات الساحل الشمالى ذات الكثافة السكانية المنخفضة
 ٤ : يفضل سكان شرق الدلتا الهجرة إلى
 ٥ : المعبر الحقيقي عن العلاقة بين عدد السكان والمساحة المعمورة
 ٦ : يقل السكان في الأطراف الغربية لمحافظة بسبب فقر التربة
 ٧ : أكثر العوامل تأثيراً في تركيز السكان بالوادي والدلتا هو
 ٨ : تزيد نسبة الذكور في محافظة
 س٩ : أمامك خريطة صماء لمصر أكتب ما تشير له الأرقام :



- ١- محافظة طاردة للسكان
 ٢- محافظة جاذبة للسكان ومحل للتنمية الاقتصادية
 ٣- محافظة ذات كثافة سكانية منخفضة جداً
 ٤- محافظة ذات كثافة سكانية متوسطة وجاذبة للسكان

- س١٠ : لو كنت من سكان محافظة سوهاج ماذا تفعل من أجل وقف تيار الهجرة النازحة منها ؟
 س١١ : ((هناك علاقة بين ارتفاع معدلات المواليد والفقر)) هل تؤيد صحة هذه العبارة أم لا ؟ ولماذا ؟
 س١٢ : عدم توظيف القدرات العلمية يؤدي إلى
 (ظهور العشوائيات ٠ الأزدحام ٠ هجرة العقول المفكرة ٠ النمو السكاني)
 س١٣ : من وجه نظرك : استنتج عوامل الطرد المسببة للهجرة في محافظتك ؟
 س١٤ : اختر : من محافظات الساحل الشمالى ذات الكثافة السكانية المتوسطة
 (بورسعيد ٠ الأسكندرية ٠ دمياط ٠ كفر الشيخ)
 س١٥ : من وجه نظرك هل تؤيد وجود علاقة بين ((حفر قناة السويس الجديدة وتوزيع السكان)) ولماذا ؟
 س١٦ : اختر : من محافظات مصر ذات الكثافة السكانية المرتفعة
 (بورسعيد ٠ الأسكندرية ٠ الجيزة ٠ القاهرة)
 س١٧ : اختر : استخدام الاطفال كأيدى عاملة يزيد من انتشار
 (الأمية ٠ الفقر ٠ البطالة ٠ الأعالة)